

**2017 年中华人民共和国普通高等学校
联合招收华侨、港澳地区、台湾省学生入学考试**

地 理

题号	一	二	三	四	总分
分数					

一 选择题（共 640 分）本题共 20 小题，每小题 4 个选项中有一个正确。选对得 2 分，错选或多选没有分。

1. 接纳中国加入世界贸易组织（WTO）的会议召开城市是（ ）
 A. 利雅得 B. 多哈 C. 开罗 D. 拉格斯
2. 著名的尼亚加拉瀑布位于（ ）
 A. 非洲的维多利亚湖和坦葛尼喀湖之间
 B. 北美洲的苏必利尔湖和密歇根湖之间
 C. 北美洲的伊利湖和安大略湖之间
 D. 南美洲的拉普拉塔河上游
3. 非洲被称为“高原大陆”是因为那里（ ）
 A. 是世界上平均海拔最高的一个大洲 B. 地形复杂多样，高原山地为主
 C. 海拔并不高，但地形简单，高原为主 D. 平均海拔仅次于南极洲，高原为主
4. 世界地球日定在每年的（ ）
 A. 6 月 5 日 B. 3 月 12 日 C. 9 月 10 日 D. 4 月 22 日
5. 啤酒等饮料生产厂布局最先要考虑到的因素是（ ）
 A. 位于消费市场内 B. 靠近优质水源地 C. 接近啤麦产地 D. 接近啤酒花产地

读图，回答 6-7 题。

6. 图 1 所示的天气形势，通常发生在（ ）

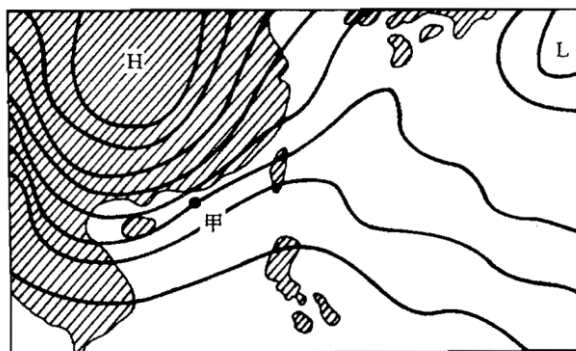


图 1

- A. 4 月到 10 月
- B. 10 月到次年 4 月
- C. 5 月到 9 月
- D. 7 月到 10 月

7. 图 1 中甲地的风向是 ()

- A. 东北 B. 西北 C. 东南 D. 西南

图 2 中阴影区域，表示某种气候类型的分布。读图，回答 8-9 题。

8. 阴影区域的年降水量是 ()

- A. 大于 2000mm B. 800-2000mm C. 300-500mm D. 不足 200mm



图 2

9. 气候类型分布受洋流影响显著的一组是 ()

- A. ①② B. ①③ C. ③④ D. ②④

10. 亚洲人口超过一亿的国家有 ()

- A. 6 个 B. 5 个 C. 4 个 D. 3 个

11. 下列河流，有可能出现凌汛现象的是 ()

- A. 密西西比河 B. 叶尼塞河 C. 尼罗河 D. 多瑙河

12. 塔中油田、大同煤矿分别位于 ()

- A. 云南、贵州 B. 重庆、河北 C. 新疆、山西 D. 青海、陕西

13. 下列土地利用类型对地下水污染最严重的是 ()

- A. 高尔夫球场 B. 种植粮食作物的耕地
C. 种植经济作物的耕地 D. 速生林用地

下面图 3 是某地气候资料(气温年变化及逐月降水分配)，图 4 是世界全图。

读图回答 14-16 题。

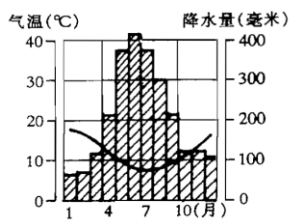


图 3



图 4

14. 与图 3 示气候相符的地方可能是图 4 中的 ()

- A. ① B. ② C. ③ D. ④

15. 图 4 中气候受西风带影响比较大的两个地方是 ()

- A. ①② B. ②③ C. ③④ D. ①④

16. 由③地将货物海运到④地, 最近的路线经过 ()

- A. 巴拿马运河 B. 麦哲伦海峡 C. 苏伊士运河 D. 直布罗陀海峡

鲁尔区是世界上重要的工业区, 它经历了迅速崛起与调整转型的过程。参考图 5, 回答 17-20 题。

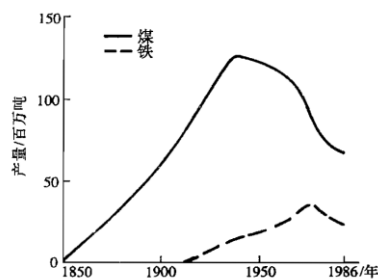


图 5

17. 鲁尔区位于 ()

- A. 法国 B. 美国 C. 荷兰 D. 德国

18. 鲁尔区的崛起初期, 其工业布局类型属于 ()

- A. 临海型 B. 资源密集型 C. 临空型 D. 劳动力密集型

19. 20 世纪 50 年代后, 鲁尔区煤炭产量下降, 主要是因为 ()

- A. 该地煤炭资源已经枯竭 B. 煤炭的大量出口
C. 大量使用石油代替煤炭 D. 环境保护压力加大

20. 我国工业区中, 最能借鉴鲁尔区 70 年代后的工业转型经验的是 ()

- A. 辽中南工业区 B. 沪宁杭工业区 C. 京津塘工业区 D. 长江沿岸工业区

二综合分析题

21. 读等高线地形图 (图 6), 回答:

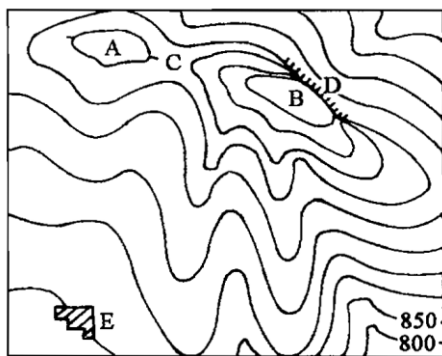


图 6

B 山峰的海拔约_____米；A 山峰相对于 E 村的相对高度约是_____米；C 地形部位的名称是：_____；D 部位的名称是_____，其中陡崖的相对高度不小于_____米。

22. 读板块构造示意图（图 7），回答：

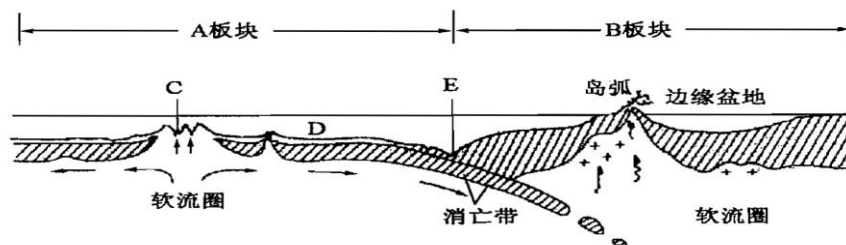


图 7

A 属于_____（类型）板块；B 属于_____（类型）板块；C 处海底地形叫_____；D 区域的海底地形叫_____；E 处得海底地形叫_____，其附近是经常发生地震的区域。

23. 读南美洲部分地区图（图 8），回答：

A 是_____河；B、C 分别是_____洋和_____洋；D 是_____高原；E 城市（国家首都）的名称是_____。

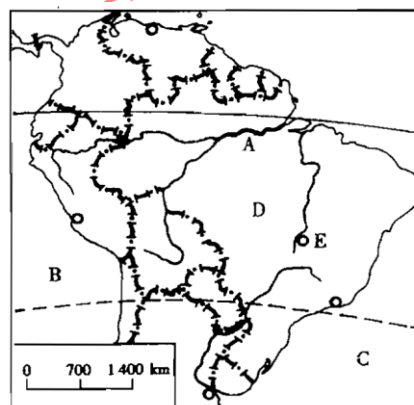


图 8

24. 2000 年春季，中国华北地区甚至长江中下游流域出现多次大风扬尘，以至出现沙尘暴天气。请回答：（7 分）

(1) 导致这类天气出现的气候因素是：

降水方面_____；

气温方面_____。

(2) 沙尘的主要源区之一是_____高原。

(3) 导致起沙的因素，除气候方面的因素外，主要是近些年_____。

(4) 减轻扬尘及沙尘暴危害的关键措施是_____。

三 简答题（共 20 分）

25.（7 分）读我国人均占有耕地变化图（图 15），回答：

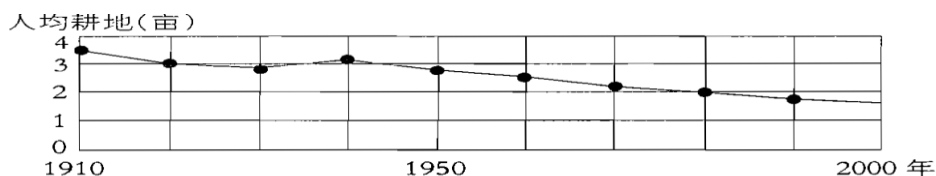


图 10

(1) 我国人均占有耕地的变化趋势是_____，2000 年与 1910 年人均占有耕地的数值比约为_____。

(2) 造成这种变化的主要原因有_____。

(3) 为确保我国粮食的自给，应采取的措施有：（将所有正确选项前的字母填在题后的括号内）

- A. 开垦草原 B. 改善耕地质量 C. 围湖、围海造田 D. 提高单产

26.（15 分）某教授将于 2002 年 8 月 2 日从北京赴洛杉矶（西八区）讲学，之后在 8 月 5 日参加在南非德班（东二区）召开的国际地理会议。回答：

(1)（2 分）德班 8 月 5 日 8 时，北京、洛杉矶的当地时间各是_____、_____。

(2)（2 分）关于德班 8 月份地理现象的两个正确的描述是（将所选项前的字母填在题后的括号内）（ ）

- A. 正值夏季 B. 昼短夜长
C. 为一年内降水较多的时期 D. 正午太阳高度为年内最大值

(3)（4 分）8 月份，洛杉矶与北京气候特点之差异：_____。

26.（5 分）我国加入 WTO 后，汽车的数量将快速增加，试述其可能对环境带来的负面影响及对策。